

توضیح:

در میان نکات زیر، گاهی از شما خواسته می شود فعالیتی را انجام دهید، مطلبی را تعریف کنید یا به سوالی جواب دهید. سعی کنید جواب را در متن کتاب بیابید. اگر در متن کتاب جواب سوال صراحتاً بیان نشده بود، سعی کنید خودتان به سوال مطرح شده پاسخ دهید و اگر نتوانستید از معلمان بپرسید.

تعریف برد و توضیحات مهم در این زمینه:

اگر برد تابع حقیقی f به طور صریح داده نشده و تنها ضابطه ی آن در دست باشد، منظور ما از جمله ی «برد تابع f را بیابید»، عبارت است از

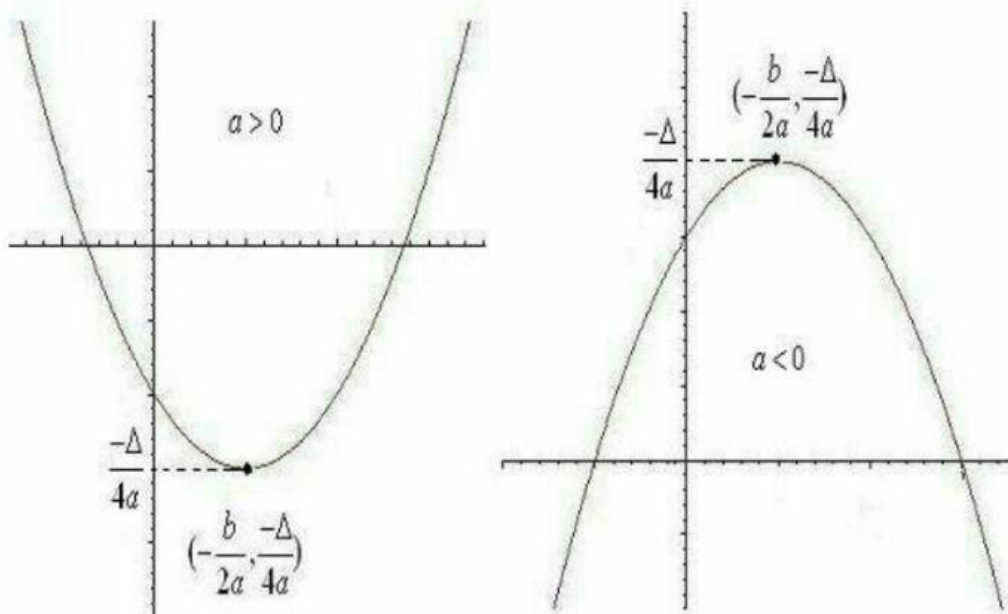
«یافتن همه ی خروجی های $f(x)$ که در اینجا x عضوی از دامنه ی f است»، به طور دقیق تر برای محاسبه ی برد تابع f باید مجموعه ی $\{f(x) \mid x \in D_f\}$ را محاسبه کنیم.

این تعریف نیز همانند تعریف دامنه، بسیار کلی است و قانونی همیشگی برای محاسبه ی برد همه ی توابع وجود ندارد. معمولاً یافتن برد یک تابع، حتی از محاسبه ی دامنه ی آن نیز مشکلتر است و گاهی احتیاج به محاسبات طولانی و نیز داشتن تجربه ی کافی در استفاده از قضایا و فرمولهای ریاضی دارد. ما فقط به چند مثال کلی بسنده می کنیم.

نکات اصلی:

برد توابع چند جمله ای درجه ی 2:

برای یافتن برد تابع $f(x) = ax^2 + bx + c$ که x عددی حقیقی و a عددی مخالف صفر است، کافی است عرض راس سهمی را به دست بیاوریم. می توان ثابت کرد که این عدد برابر است با $f(-\frac{b}{2a}) = \frac{-\Delta}{4a}$ ثابت کنید). اگر $a \geq 0$ آنگاه $R_f = [\frac{-\Delta}{4a}, +\infty)$ و اگر $a < 0$ آنگاه $R_f = (-\infty, \frac{-\Delta}{4a}]$. به تصاویر زیر توجه کنید:



به طور مثال برد تابع $f(x) = x^2 + x + 1$ برابر است با $[\frac{3}{4}, +\infty)$ زیرا با توجه به نکات بالا

$$\frac{-\Delta}{4a} = \frac{-(-3)}{4 \times 1} = \frac{3}{4}$$

۱. توابع چند جمله ای درجه ی فرد:

اگر دامنه ی توابع چند جمله ای درجه ی فرد را \mathbf{R} در نظر بگیریم (نه دامنه ای محدود)، آنگاه می توان ثابت کرد که برد نیز \mathbf{R} است. (در واقع علت اصلی آن پیوستگی این توابع است که بعدها در دوره ی پیش دانشگاهی به وسیله ی قضیه ی مقدار میانگین اثبات می شود.) به عنوان مثال برد تابع

$$y = 4x^5 + \frac{1}{2}x^2 + x + 3$$

برابر است با \mathbf{R} .

۲. توابعی که می توان به وسیله ی آنها x را بر حسب y محاسبه کرد:

فرض کنید تابع $y=f(x)$ را بتوان به صورت $x=g(y)$ نوشت؛ یعنی x را بر حسب y محاسبه کرد. در اینصورت دامنه ی تابع جدید، برد تابع اصلی است. به مثالهای زیر توجه کنید:

(الف) برای یافتن برد تابع f با ضابطه ی $y = \frac{3x+2}{2x-1}$ اعمال زیر را انجام می دهیم:

$$y = \frac{3x+2}{2x-1} \Rightarrow y(2x-1) = 3x+2 \Rightarrow$$

$$2yx - y = 3x + 2 \Rightarrow 2yx - 3x = y + 2$$

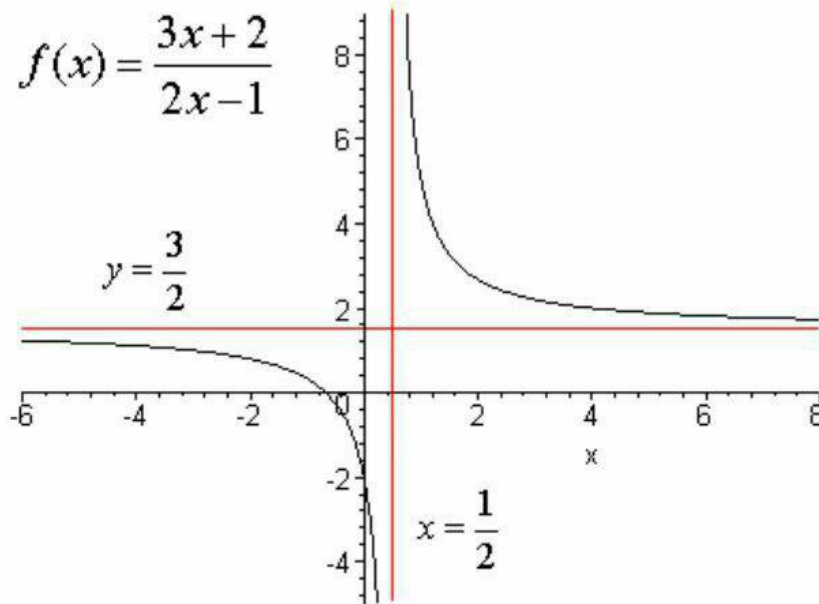
$$\Rightarrow x(2y-3) = y+2$$

$$\Rightarrow x = \frac{y+2}{2y-3} \quad (y \neq \frac{3}{2})$$

$$R_f = \mathbb{R} - \left\{ \frac{3}{2} \right\}$$

بنابر این

به شکل این تابع توجه و سعی کنید برد را فقط به وسیله ی شکل به دست آورید:

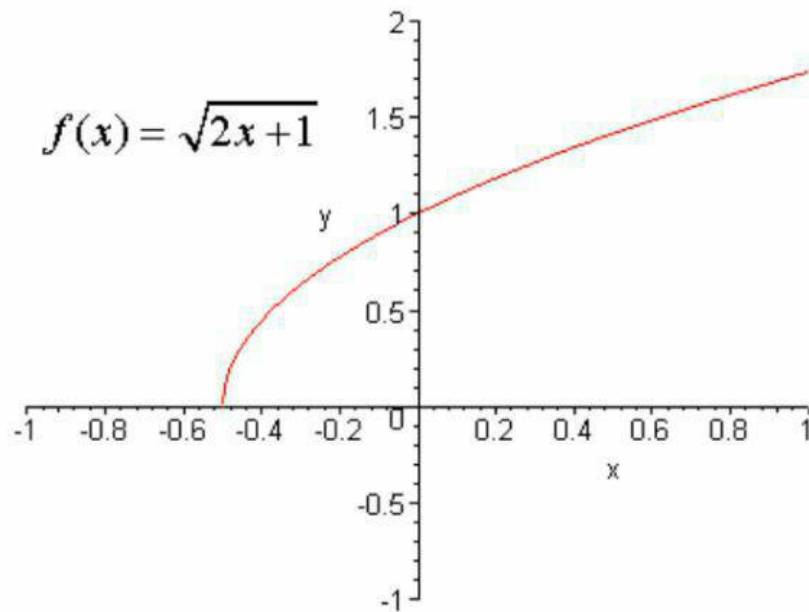


نکته: با همین روش ثابت کنید که اگر $f(x) = \frac{ax+b}{cx+d}$ ، آنگاه $R_f = \mathbb{R} - \left\{ \frac{a}{c} \right\}$

(ب) برد تابع $y = \sqrt{2x+1}$

ابتدا توجه کنید که $(y \geq 0)$. دقت کنید که اگر قرار دهیم $x = -\frac{1}{2}$ ، آنگاه $(y=0)$ می توان نوشت :
 $y^2 = 2x+1$. در نتیجه $x = \frac{1}{2}y^2 - \frac{1}{2}$. چون دامنه ی تابع $\frac{1}{2}y^2 - \frac{1}{2}$ برابر است با \mathbb{R} و چون $y \geq 0$ ، بنابر این برد تابع $y = \sqrt{2x+1}$ با $[0, +\infty)$ برابر خواهد بود.

به شکل این تابع توجه و سعی کنید برد را فقط به وسیله ی شکل به دست آورید:



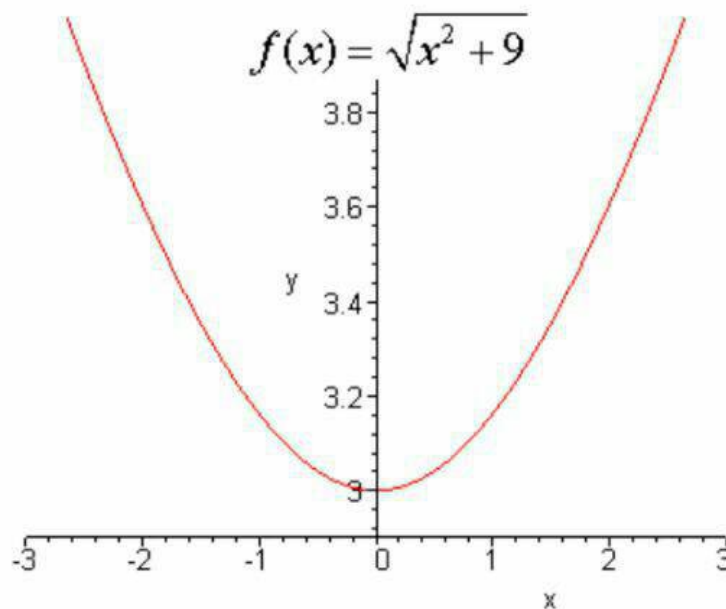
ج) برد تابع $f(x) = \sqrt{x^2 + 9}$

باتوجه به این نکته که طرفین مثبت هستند، می توان نوشت:

$$y = \sqrt{x^2 + 9} \Rightarrow y^2 = x^2 + 9 \Rightarrow x^2 = y^2 - 9 \Rightarrow x = \pm\sqrt{y^2 - 9}$$

در عبارت آخر، زیر رادیکال باید نامنفی باشد و لذا $y \in (-\infty, -3] \cup [3, +\infty)$ اما $y > 0$ ، در نتیجه برد تابع f برابر است با $[3, +\infty)$.

به شکل این تابع توجه و سعی کنید برد را فقط به وسیله ی شکل به دست آورید:



$$f(x) = \frac{-2x}{x^2 + 1} \text{ برد تابع (د)}$$

روش اول:

به عبارت زیر توجه کنید:

$$y = \frac{-2x}{x^2 + 1} \Rightarrow yx^2 + 2x + y = 0$$

عبارت سمت راست یک معادله درجه ی ۲ بر حسب x است. حال با توجه به دلتای این معادله، برای اینکه این معادله جواب داشته باشد باید $1 - y^2 \geq 0$ و لذا $-1 \leq y \leq 1$ ؛ در نتیجه خواهیم داشت: $R_f = [-1, 1]$. توجه کنید که اگر $x = -1$ آنگاه $y = 1$ و اگر $x = 1$ آنگاه $y = -1$.

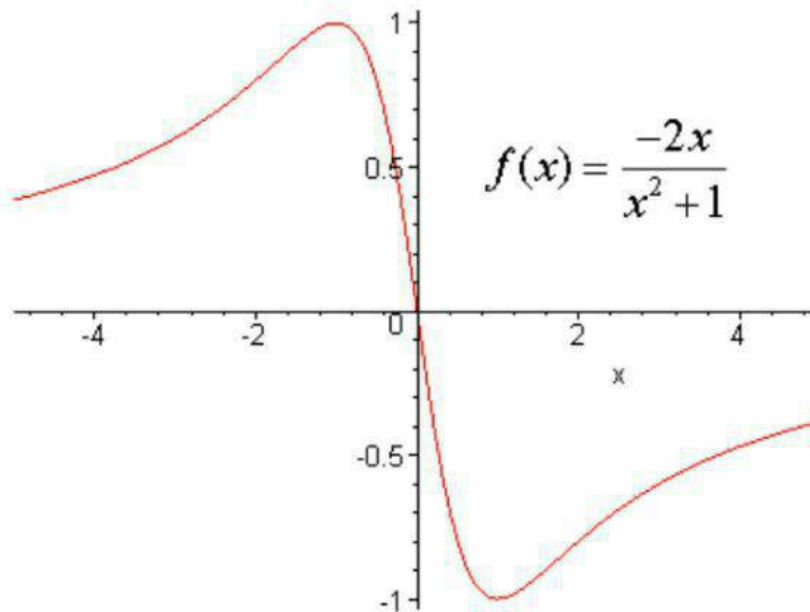
روش دوم:

با استفاده از اتحاد مربع دوجمله ای، می توان ثابت کرد که

$$-(x^2 + 1) \leq -2x \leq x^2 + 1$$

$$\text{بنابر این } -1 \leq \frac{-2x}{x^2 + 1} \leq 1 \text{ و لذا } R_f = [-1, 1]$$

به شکل این تابع توجه و سعی کنید برد را فقط به وسیله ی شکل به دست آورید:



$$f(x) = x - \sqrt{x} \text{ برد تابع (ه)}$$

می توان نوشت:

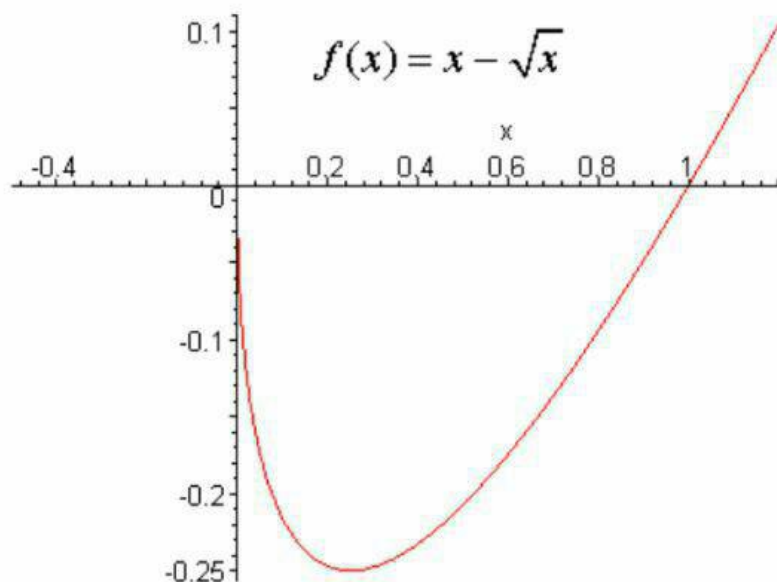
$$y = x - \sqrt{x} \Rightarrow \sqrt{x} = x - y \Rightarrow x = (x - y)^2$$

$$\Rightarrow x^2 - (1 + 2y)x + y^2 = 0$$

عبارت آخر یک معادله درجه ی ۲ بر حسب x است. حال با توجه به دلتای این معادله، برای اینکه این معادله جواب داشته باشد باید $(1 + 2y)^2 - 4y^2 = 1 + 4y \geq 0$. بنابراین خواهیم

داشت: $R_f = [-\frac{1}{4}, +\infty)$. روش دیگر برای پیدا کردن برد این تابع، استفاده از مشتق است که به آن نمی پردازیم).

به شکل این تابع توجه و سعی کنید برد را فقط به وسیله ی شکل به دست آورید:



نکته: مطلب بالا نشان می دهد که کمترین مقدار خروجی این تابع برابر است با $-\frac{1}{4}$. توجه کنید که اگر

$$y = -\frac{1}{4}, \quad x = \frac{1}{4}$$

۳. توابع مثلثاتی:

برد توابع $\sin(x)$ و $\cos(x)$ برابر است با $[-1, 1]$ و برد توابع $\tan(x)$ و $\cot(x)$ برابر است با \mathbb{R} . چرا؟

به مثالهای زیر توجه کنید:

$$f(x) = \sin^2(x) - 2\sin(x) + 4 \quad \text{الف) برد تابع}$$

می توان نوشت: $f(x) = (\sin(x) - 1)^2 + 3$. چون $-2 \leq \sin(x) - 1 \leq 0$ بنابراین
 این $0 \leq (\sin(x) - 1)^2 \leq 4$ و در نتیجه برای هر $x \in \mathbb{R}$ خواهیم داشت $3 \leq f(x) \leq 7$ ،
 پس $R_f = [3, 7]$.

ب) برد تابع $g(x) = \sin(x) + \cos(x)$

در بخشهای بعدی حسابان خواهید دید که $g(x) = \sqrt{2} \cos(x - \frac{\pi}{4})$. اما بنابر نکته ی ۴ می توان

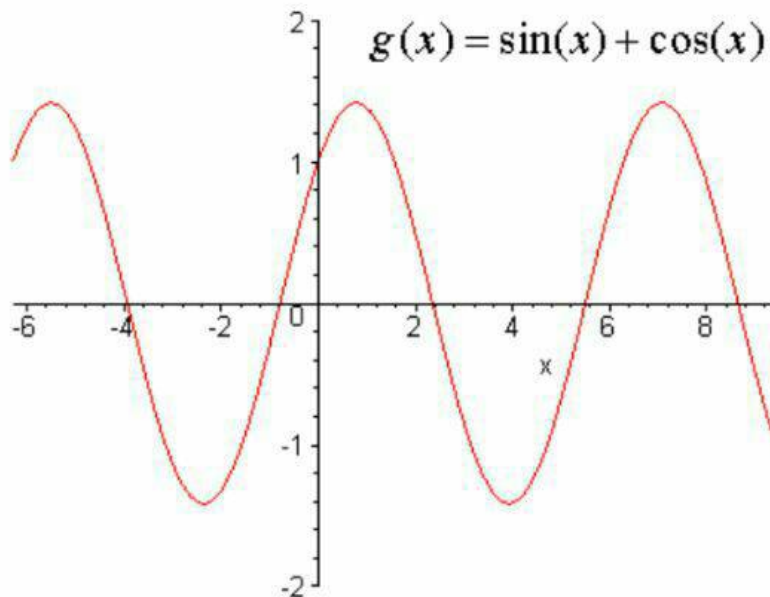
نوشت: $-1 \leq \cos(x - \frac{\pi}{4}) \leq 1$ ، در نتیجه $-\sqrt{2} \leq g(x) \leq \sqrt{2}$ ، پس

$R_g = [-\sqrt{2}, \sqrt{2}]$. توجه کنید که در این مثال و بعضی مثالهای بالا، به طور مخفیانه از قضیه ی مقدار میانگین استفاده شده است که این قضیه را در پیش دانشگاهی خواهید دید.

نکته ی مهم: ممکن است بعضی از دانش آموزان اینگونه استدلال کنند که چون $-1 \leq \sin(x) \leq 1$
 و $-1 \leq \cos(x) \leq 1$ ، بنابراین این $-2 \leq \sin(x) + \cos(x) \leq 2$ و در نتیجه
 $R_g = [-2, 2]$

این استدلال درست نیست، زیرا برای هیچ x ی $\sin(x) + \cos(x)$ برابر با ۲ یا -۲ نیست و لذا
 $R_g \neq [-2, 2]$ (دقت کنید!) در واقع به وسیله ی استدلال بالا فقط می توان نتیجه گرفت
 که $R_g \subseteq [-2, 2]$. همین ریزه کاریهاست که محاسبه ی برد بعضی از توابع را مشکل می کند.

به شکل این تابع توجه و سعی کنید برد را فقط به وسیله ی شکل به دست آورید:



۴. تابع جزء صحیح:

برد تابع جزء صحیح برابر است با \mathbb{Z} . در حالت کلی برد تابع $[f(x)]$ زیر مجموعه ای از \mathbb{Z} است؛

اما فرمولی کلی برای محاسبه ی برد اینگونه توابع وجود ندارد.

به مثالهای زیر توجه کنید:

$$f(x) = \left[\frac{x^2 + x + 1}{x^2 + x + 2} \right] \text{ (الف) برد تابع}$$

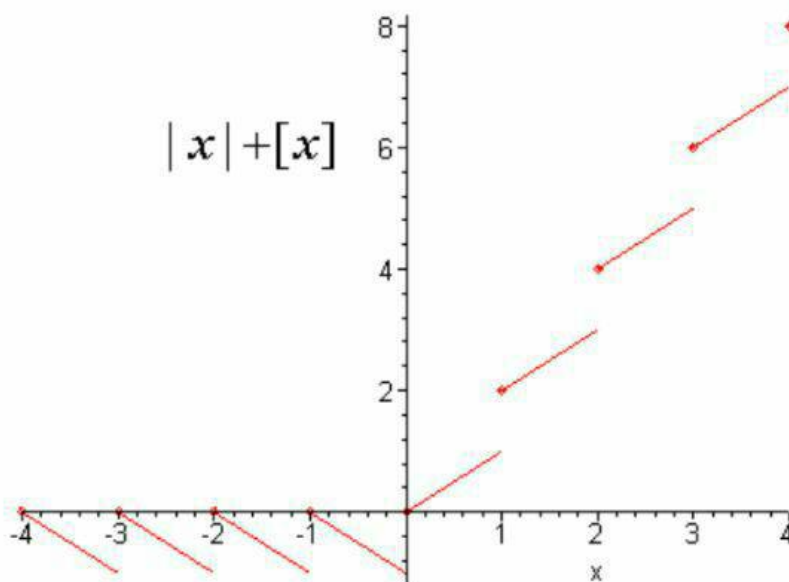
صورت و مخرج کسر $\frac{x^2 + x + 1}{x^2 + x + 2}$ همواره مثبت و صورت کسر از مخرج آن کمتر است. بنابراین
 این $0 < \frac{x^2 + x + 1}{x^2 + x + 2} < 1$ و در نتیجه بنابر خواص جزءصحیح برای هر $x \in \mathbb{R}$ ، $f(x) = 0$ و لذا
 باید برد تابع f مجموعه ی تک عنصری $\{0\}$ باشد.

$$h(x) = [\cos^2(x) - 8 \cos(x) + 20] \text{ (ب) برد تابع}$$

می توان دید $h(x) = [(\cos(x) - 4)^2 + 4]$ چون $9 \leq (\cos(x) - 4)^2 \leq 25$ بنابر این
 در نتیجه $13 \leq (\cos(x) - 4)^2 + 4 \leq 29$ ، $R_h = \{13, 14, 15, \dots, 28, 29\}$

$$r(x) = |x| + [x] \text{ (ج) برد تابع}$$

روش محاسبه ی برد این تابع به راحتی به دست نمی آید. برای حدس زدن جواب درست، بد نیست که به شکل متوسل شویم و از آن برای استدلال درست استفاده کنیم. به شکل این تابع توجه کنید:



حال با کمک شکل، می توان جواب را حدس زد و آن را به وسیله ی استدلال استنتاجی اثبات کرد. اگر دوست دارید روش به دست آوردن برد را بدانید